

Zadanie 4. (3 pkt)

Określ, które ze zdań prawdziwie (litera „P”), a które fałszywie (litera „F”) opisują handel zagraniczny na świecie.

1. Im wyższy stopień rozwoju gospodarczego państwa tym większy udział w światowym handlu zagranicznym.
2. Znaczenie wymiany handlowej jest dużo ważniejsze dla państw mniejszych niż dla państw obszarowo większych.....
3. Im większa odległość geograficzna państw tym są dla siebie ważniejszymi partnerami handlowymi.....
4. Dla państw wysoko rozwiniętych głównymi partnerami są również kraje wysoko rozwinięte gospodarczo, tak jak dla słabo rozwiniętych, kraje o niskim poziomie rozwoju.....
5. Kraje o dużej liczbie ludności mają większe obroty handlu zagranicznego niż państwa o małej liczbie ludności.....
6. Wpływ na kierunki wymiany handlowej mają korzenie historyczne, np. dawne zależności kolonialne.....

Zadanie 6. (3 pkt)

Na podstawie danych zawartych w poniższej tabeli wykonaj zadania.

Eksport i import w mld dolarów USA w 2000 r.

Kraj	Import	Eksport	Bilans handlu
Niemcy	500,9	549,7	+ 48,8
Japonia	379,7	479,3	
Polska	48,9	31,7	
Turecja	54,5	27,8	-26,7

Źródło: *Mały rocznik statystyczny Polski 2002*, GUS, Warszawa 2002

- a) Oblicz bilans handlu zagranicznego Polski i Japonii i wpisz te wartości do tabeli.
- b) Porównaj bilans handlowy Niemiec i Turcji i oceń, który z nich jest korzystniejszy dla gospodarki kraju. Odpowiedź uzasadnij.

.....
.....
.....

Zadanie 7. (2 pkt)

W tabeli przedstawiono obroty w handlu zagranicznym Polski w 2002 roku.

Rok	Ogółem	Import	Eksport	Saldo
	w mln \$ USA			
2002	96123	55113	41010

- a) Oblicz saldo handlu zagranicznego Polski. Wynik obliczeń wpisz w odpowiednie miejsce w tabeli.

Miejsce na obliczenia:

- b) Tradycyjnym surowcem eksportowanym przez Polskę jest węgiel kamienny.

Zaznacz literę, którą oznaczono kraje należące obecnie, podobnie jak Polska, do eksporterów węgla kamiennego.

A. Niemcy, Brazylia, Wielka Brytania, Francja

- B.** Australia, RPA, Stany Zjednoczone, Kanada
- C.** Wielka Brytania, Ukraina, Francja, Szwecja
- D.** Ukraina, Wielka Brytania, Argentyna, Zambia

Zadanie 8 (0 – 2 pkt.)

Podaj minimum trzy czynniki lokalizacji, które należy wziąć pod uwagę decydując się na budowę hipermarketu.

.....
.....
.....
.....

Zadanie 9. (1 pkt)

W poniższej tabeli przedstawiono dane o obrotach handlu zagranicznego Niemiec, Francji i Luksemburga w 2001 r. (w %).

Państwo	Główni partnerzy handlowi			
	Import	%	Eksport	%
Niemcy	Francja	9,4	Francja	11,1
	Holandia	8,4	Stany Zjednoczone	10,6
	Stany Zjednoczone	8,3	Wielka Brytania	8,4
Francja	Niemcy	16,7	Niemcy	14,7
	Włochy	9,1	Wielka Brytania	9,8
	Stany Zjednoczone	8,9	Hiszpania	9,6
Luksemburg	Belgia	34,9	Niemcy	24,4
	Niemcy	25,3	Francja	20,0
	Francja	13,0	Belgia	12,9

Sformułuj prawidłowość, dotyczącą struktury geograficznej obrotów handlu zagranicznego Niemiec, Francji i Luksemburga.

.....
.....
.....
.....

Zadanie 10. (3 pkt)

Podaj zasadniczą zmianę, jaka zaszła w kierunkach geograficznych handlu zagranicznego Polski po 1990 r. oraz podaj dwie przyczyny tej zmiany.

Zmiana:

.....
.....

Przyczyny:

1.

.....
.....

2.

.....
.....

Zadanie 11*. (3 pkt)

Tabela przedstawia przeładunek w mln ton w portach morskich wybranych krajów świata w 2003 roku.

Kraje	Załadunek	Wyładunek
	mln ton	
Holandia	98	326
Japonia	168	810
Meksyk	110	50
Niemcy	92	155
RPA	128	42

a) Na podstawie informacji podanych w tabeli wymień dwa kraje, w których tonaż importowanych towarów drogą morską przewyższa tonaż towarów eksportowanych.

1. 2.

b) Wyjaśnij różnice w wielkości załadunku i wyładunku towarów w Japonii i RPA.
 Japonia

.....

RPA

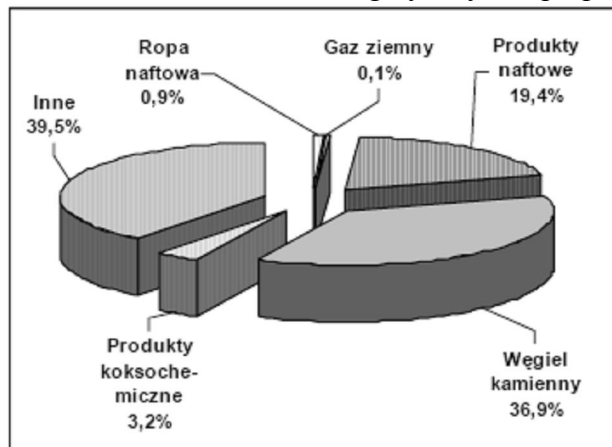
.....

Zadanie 12*. (1 pkt)

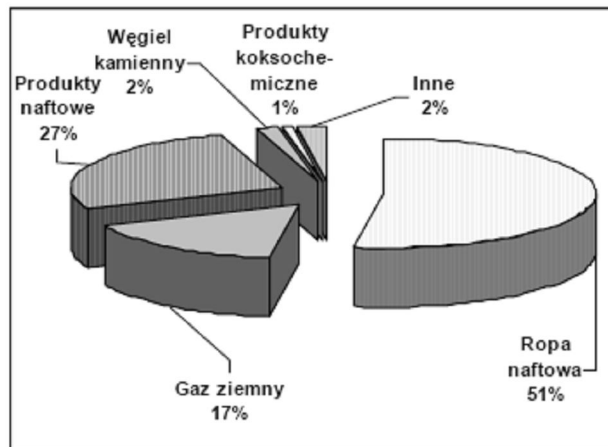
Wykresy przedstawiają strukturę handlu zagranicznego Polski wybranymi surowcami energetycznymi i półproduktami oraz kierunki geograficzne handlu tymi wyrobami w 2004 roku.

Wpisz pod wykresami A, B, C, D odpowiednio: eksport, import.

Struktura towarowa handlu zagranicznego Polski surowcami energetycznymi i półproduktami w 2004 roku

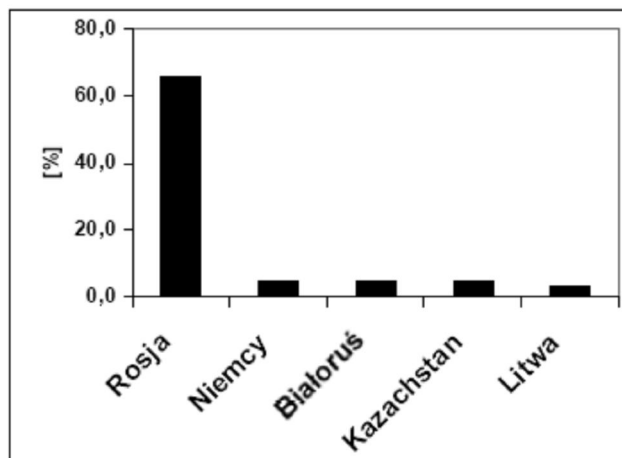


A.

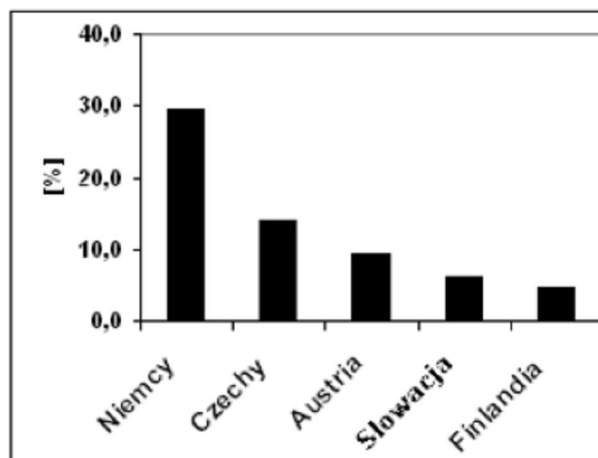


B.

Kierunki geograficzne handlu zagranicznego Polski surowcami energetycznymi i półproduktami w 2004 roku



C.



D.

Zadanie 13*. (3 pkt)

W tabeli przedstawiono strukturę eksportu wybranych krajów w latach 2001-2004.

Kraj	Eksport w %				
	towary rolnospożywcze	surowce z wyjątkiem paliw	paliwa mineralne	maszyny, urządzenia, sprzęt transportowy	pozostałe produkty przetwórstwa przemysłowego
Japonia	0,5	0,9	0,3	68,2	30,1
Korea Pd.	1,3	1,0	1,0	62,5	34,2
Indie	11,5	4,3	4,4	7,9	71,9
Turcja	9,4	2,9	2,0	26,2	59,5
Polska	7,9	2,6	4,3	37,8	47,4
Finlandia	0,2	6,9	3,3	43,9	45,7

Na podstawie: Świat w liczbach 2006/2007, WSiP, Warszawa 2006

a) Porównaj, podając dwie różnice, strukturę towarową eksportu Polski i Indii.

-
-

b) Sformułuj wniosek dotyczący eksportu wybranej grupy towarów z krajów Azji Wschodniej.

.....

.....

.....

c) Podaj dwie przyczyny niskiego udziału towarów rolnospożywczych w eksporcie Finlandii.

-
-

Zadanie 14*. (2 pkt)

W tabeli przedstawiono udział w światowym eksporcie oraz wartość eksportu na jednego mieszkańca w wybranych krajach w 2000 r. i 2007 r.

Kraj	Udział w świecie w %		Eksport na 1 mieszkańca w dol. USA w 2007 r.
	w 2000 r.	w 2007 r.	
Niemcy	9,2	10,2	16090
	4,2	9,3	917
	13,1	8,9	3803
	8,0	5,4	5546
Francja	5,0	4,1	8794
Włochy	4,0	3,8	8491
Wielka Brytania	4,7	3,3	7174
Kanada	4,6	3,2	12667

Na podstawie: *Mały Rocznik Statystyczny Polski 2009*, GUS, Warszawa 2009 r.

Na podstawie tabeli i własnej wiedzy wykonaj polecenia.

a) Wpisz we właściwe miejsca tabeli podane poniżej nazwy krajów.

Kraje: Stany Zjednoczone, Japonia, Chiny.

b) Zapisz nazwę kraju należącego do NAFTA wybraną spośród podanych w tabeli.

.....

Zadanie 33*. (1 pkt)

Na podstawie danych w tabeli oblicz saldo handlu zagranicznego dla Indii.

Obliczenia

Saldo handlu zagranicznego

Kraj	PKB na 1 mieszkańca (wg parytetu siły nabywczej) w USD	HDI*	Eksport w mld USD	Import w mld USD	Eksport na 1 mieszkańca w USD	Import na 1 mieszkańca w USD
4. Indie	3100	0,612	164	268	143	233

*2007

Na podstawie: www.cia.gov

TURYSTYKA

Zadanie 2. (2 pkt)

W tabeli przedstawiono dane dotyczące turystyki zagranicznej wybranych krajów Europy.

Kraj	Przyjazdy turystów w mln.	Dochody z turystyki w mln dol.	Dochody z turystyki w % wartości eksportu
Austria	17,9	11 440	12
Chorwacja	5,8	2 758	32
Grecja	12,5	9 221	31
Hiszpania	48,2	31 000	18
Francja	75,5	29 900	8
Niemcy	18,9	17 812	3
Polska	17,4	6 100	13

Wymień po dwa kraje:

a) najliczniej odwiedzane przez turystów

b) w których turystyka ma największe znaczenie gospodarcze.....

.....

Wyjaśnij, dlaczego w kraju najliczniej odwiedzanym przez turystów ten dział gospodarki nie ma największego znaczenia gospodarczego.

.....
.....
.....

Zadanie 3. (3 pkt)

Oblicz średnie dochody uzyskane z turystyki od jednego turysty przyjeżdżającego do Polski, Austrii i Niemiec (tabela zad. 2). Podaj dwie przyczyny, dla których Polska wyraźnie różni się pod tym względem od dwóch pozostałych krajów.

Średni dochód od jednego turysty: Polska.....Austria.....Niemcy.....

Przyczyny:

a)

.....

b)

.....

Zadanie 7. (2 pkt)

Podaj przykłady dwóch zagrożeń przyrodniczych, które mogą mieć wpływ na bezpieczeństwo turystów wędrujących po tatrzańskich szlakach.

Zaproponuj dwa działania, które powinien podjąć turysta w celu uniknięcia tych zagrożeń.

Przykłady zagrożeń:

1.

2.

Przykłady działań:

1.

2.

Zadanie 8. (4 pkt)

Przedstaw cztery przyczyny, które zadecydowały o dynamicznym rozwoju turystyki na świecie w drugiej połowie XX wieku.

1.

.....

2.
.....
3.
.....
4.
.....

Zadanie 9. (4 pkt)

Dobierz do każdego z wymienionych w tabeli krajów główne przyczyny, które mogą ograniczać napływ turystów.

Kraje	Przyczyny
1. Malezja	
2. Turcja	
3. Chiny	
4. Stany Zjednoczone (Floryda, Luizjana)	

- A. ataki fundamentalistów islamskich,
- B. zniszczenia infrastruktury wskutek tsunami,
- C. występowanie niszczycielskich huraganów,
- D. konflikt katolicko-protestancki,
- E. epidemie chorób (SARS, ptasia grypa).

Zadanie 11. (4 pkt)

Na mapie konturowej przedstawiono kraje basenu Morza Śródziemnego.



a) Na podstawie opisów rozpoznaj i wpisz nazwy krajów położonych w tym regionie.

- A. Turystów przyciągają do tego położonego na półwyspie kraju walory krajobrazowe, zwłaszcza wybrzeża wschodniego, archipelagi wysp oraz obiekty kultury materialnej: świątynie chrześcijańskie a także liczne zabytki będące świadectwem wcześniejszego panowania Arabów.
Kraj:.....
- B. Na atrakcyjność tego europejskiego kraju wpływa zróżnicowany krajobraz o przewadze terenów górzystych, występowanie licznych wysp z urozmaiconą linią brzegową, z licznymi zatokami, a także posiadanie zabytków cywilizacji starożytnej.
Kraj:.....
- C. Turyści w tym kraju, oprócz pozostałości cywilizacji starożytnej, coraz liczniej zwiedzają rafy koralowe. Niestety zagrożeniem dla rozwoju turystyki są ataki fundamentalistów islamskich skierowane przeciwko obcokrajowcom.
Kraj:.....
- D. Kraj położony nad Morzem Adriatyckim. Turystów urzekają krajobrazy z licznymi formami krasowymi oraz skaliste wybrzeże dalmatyńskie.
Kraj:.....

b) Zaznacz na mapie kraje opisane powyżej, wpisując na ich obszarach odpowiednio litery: A, B, C, D.

Zadanie 13. (2 pkt)

W sezonie letnim w nadmorskich miejscowościach wczasowych napływ turystów powoduje, że liczba ich mieszkańców wzrasta nawet kilkakrotnie.

Wymień trzy negatywne skutki (np.: ekologiczne, ekonomiczne lub społeczne) wynikające z sezonowości ruchu turystycznego w regionie nadmorskim.

1.
2.
3.

Zadanie 14. (2 pkt)

Na mapie przedstawiono położenie geograficzne wybranych atrakcji turystycznych regionu Ameryki.



Wpisz w odpowiednie miejsca tabeli litery, którymi oznaczono na mapie położenie niżej wymienionych atrakcji turystycznych regionu Ameryki.

Wybrane atrakcje turystyczne	Litera na mapie
Wyspy Morza Karaibskiego	
Park Narodowy Yellowstone	
Rio de Janeiro	
Wodospad Niagara	

Zadanie 15*. (3 pkt)

W 2000 roku Polska zajmowała 9 miejsce na świecie pod względem liczby odwiedzających ją turystów zagranicznych. 78% spośród nich przebywało w Polsce nie dłużej niż jeden dzień.

a) Wymień trzy czynniki przyrodnicze wpływające na atrakcyjność turystyczną Polski.

1.
2.
3.

b) Zaproponuj cztery działania, które zachęcą turystę do wydłużenia pobytu w Polsce.

1.
2.
3.
4.

Zadanie 16*. (2 pkt)

Na świecie w miejscach szczególnie atrakcyjnych ma miejsce rozwój masowej turystyki.

Wymień trzy negatywne skutki jej rozwoju.

1.
2.
3.

Zadanie 17. (1 pkt)


Zgodnie z danymi Światowej Organizacji Turystyki (UNWTO) w latach 1990-2005 największy, trzykrotny, wzrost ruchu turystycznego nastąpił na obszarze Bliskiego Wschodu.

Wybierz z podanych i zaznacz trzy walory turystyczne tego obszaru świata.

- A. Rify koralowe.
- B. Wiecznie zielone lasy równikowe.
- C. Najniżej położone i najbardziej zasolone jezioro na świecie.
- D. Budowle z okresu panowania faraonów.
- E. Trasy narciarskie na lodowcach górskich.
- F. Zabytki architektury hinduskiej.

Zadanie 18. (1 pkt)

Na fotografiach przedstawiono fragmenty dwóch miast.



Miasto:



Miasto:

Na podstawie: *Encyklopedia multimedialna PWN*,
Wrocław-Warszawa 2001

Podpisz fotografie nazwami odpowiednich miast, wybranymi spośród podanych poniżej.

Ateny, Berlin, Moskwa, Paryż, Sofia, Sztambuł


Zadanie 19. (1 pkt)

Podaj dwie przyczyny intensywnego rozwoju turystyki na świecie po 1990 roku.

1.
2.

Zadanie 20*. (1 pkt)

Obiekty przedstawione na fotografiach zostały wpisane na Listę Światowego Dziedzictwa Kulturowego i Przyrodniczego UNESCO i są objęte szczególną ochroną ze względu na ich unikatową wartość kulturową.



Źródło: <http://www.machupicchumystery.com/images/machupichu.18.jpg>

1. Machu Picchu, ruiny miasta historycznego imperium, którego upadek nastąpił w XVI w.



Źródło: <http://lauratheglobetreker.co.uk>

2. Gmach opery, który stał się jednym z symboli kraju.

Podaj nazwy państw, w których znajdują się obiekty przedstawione na fotografiach.

1.
2.

Zadanie 21. (2 pkt)

Rozwój turystyki przynosi znaczne korzyści społeczne i ekonomiczne, ale również różnego typu zagrożenia.

a) Podaj dwa przykłady korzyści ekonomicznych lub społecznych dla mieszkańców regionów turystycznych.

1.
2.

b) Podaj dwa przykłady zagrożeń (społecznych, ekonomicznych lub przyrodniczych), będących konsekwencją rozwoju turystyki w danym regionie.

1.
2.

Zadanie 22. (2 pkt)


Na zdjęciach przedstawiono charakterystyczne atrakcje turystyczne wybranych regionów Polski. Poniżej na mapie konturowej zaznaczono położenie wybranych atrakcji turystycznych Polski, w tym obiektów przedstawionych na fotografiach.



1. Jaskinia Raj



2. Tężnie w Ciechocinku



3. Zamek w Malborku

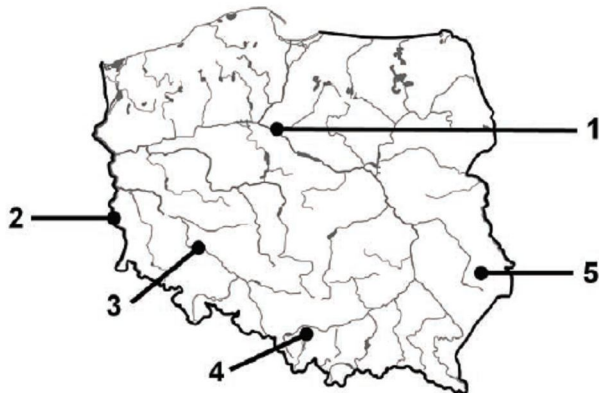


Przyporządkuj obiekty przedstawione na fotografiach do regionów wymienionych w tabeli. Wpisz literę, którą na mapie oznaczono położenie tych obiektów.

Region Polski	Obiekt (numer fotografii)	Miejsce występowania (litera na mapie)
Kujawy		
Wyżyna Kielecko-Sandomierska		
Żuławy Wiślane		

Zadanie 24. (2 pkt)

Na mapie konturowej zaznaczono numerami 1–5 położenie wybranych obiektów wpisanych na Listę Światowego Dziedzictwa UNESCO. Trzy z nich przedstawiono na fotografiach.



A. Stare Miasto od strony Wisły



B. Renesansowe Stare Miasto



C. Obóz koncentracyjny

Uzupełnij tabelę, wpisując nazwę miasta, w którym znajduje się obiekt przedstawiony na fotografii, oraz numer, którym na mapie oznaczono jego położenie.

Fotografia	Miasto	Numer na mapie
A		
B		
C		


Zadanie 25*. (2 pkt)

Na zdjęciach przedstawiono cztery przyrodnicze atrakcje turystyczne.

„Bezkrwawe łowy” na sawannie w Afryce



Wodospad Niagara



Fiord



Skala Uluru (Ayers Rock)



Na mapie zaznaczono literami A–G wybrane miejsca na Ziemi. Wśród nich są cztery, w których wykonano powyższe fotografie.



Uzupełnij tabelę, wpisując litery, którymi oznaczono na mapie miejsca przedstawione na fotografiach.

Atrakcja turystyczna	Miejsce na mapie (wpisz literę)
„Bezkrwawe łowy” na sawannie w Afryce	
Fiord	
Wodospad Niagara	
Formacja skalna Uluru (Ayers Rock)	